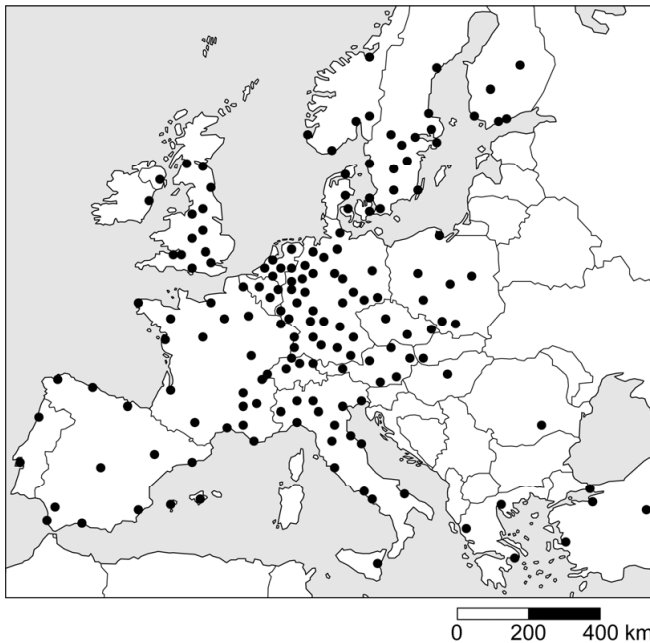



## Woon-wereldhandel

*Bij de beantwoording van de vragen in deze opgave moet je soms gebruikmaken van informatiebron 1 en 2 in de bijlage.*

Het Zweedse woonwarenhuis IKEI met 420 warenhuizen is gevestigd in meer dan 50 landen verspreid over de hele wereld.



- 1p 1 Zweden is lid van de Europese Unie (EU); in veel landen van de EU zijn vestigingen van IKEI-warenhuizen.  
→ Verklaar waarom vrij verkeer van personen, een kenmerk van de EU, gunstig is voor een internationale onderneming zoals IKEI.

In de EU moet de verkoopprijs van een product voor alle consumenten in principe gelijk zijn. Zo kost de Willy-boekenkast, die al tientallen jaren populair is, in Zweden net zo veel als in Nederland.

- 1p 2 Is Zweden ook lid van de Europese Monetaire Unie (EMU)?
- A Ja, er wordt betaald met de euro.
  - B Ja, naast de Zweedse kroon is ook de euro een wettig betaalmiddel.
  - C Nee, er wordt betaald met de Zweedse kroon.
  - D Nee, naast de euro is ook de Zweedse kroon een wettig betaalmiddel.


In landen buiten de EU zijn de prijzen van dezelfde artikelen per land verschillend.

*Gebruik informatiebron 1 en 2.*

- 2p 3 In Zuid-Korea kost de Willy-boekenkast omgerekend € 81,75.  
→ Bereken in welk land (Marokko of India) de Willy-boekenkast het goedkoopst is. Schrijf je berekening en conclusie op.
- 1p 4 De Willy-boekenkasten worden overal ter wereld geproduceerd en verkocht. In India en China staan fabrieken en ook IKEI-warenhuizen. In Afrikaanse landen, zoals Ethiopië en Oeganda, staan alleen fabrieken die produceren voor IKEI.  
→ Maak van de onderstaande zinnen een economisch juiste tekst door de juiste woorden te kiezen.  
*Doe het zo: Noteer de nummers (1) en (2) op je antwoordblad. Schrijf achter de nummers de juiste woorden op. Kies uit de woorden die tussen haakjes staan.*  
Er zijn in Ethiopië en Oeganda nog geen IKEI warenhuizen, omdat de inkomens in die landen, vergeleken met Europa, relatief ... (1) ... (hoog / laag) zijn. Daardoor is de ... (2) ... (afzetmarkt / betalingsbalans) ongunstig voor IKEI.
- 1p 5 IKEI gebruikt grondstoffen uit Ethiopië en Oeganda. De vraag naar deze grondstoffen heeft een gunstig effect op de economie van beide landen. Hier staan vijf economische verschijnselen.  
1 toename van de vraag naar grondstoffen  
2 toename van de werkgelegenheid  
3 toename van de totale binnenlandse vraag  
4 toename van de koopkracht  
5 toename van de economische groei  
In welke regel staan deze verschijnselen zo, dat er een logische gedachtegang ontstaat?  
**A** 1 → 2 → 3 → 4 → 5  
**B** 1 → 2 → 4 → 3 → 5  
**C** 1 → 3 → 2 → 4 → 5  
**D** 1 → 3 → 4 → 2 → 5  
**E** 1 → 4 → 2 → 3 → 5  
**F** 1 → 4 → 3 → 2 → 5
- 2p 6 In India, een land met een snel groeiende economie, zijn ook verschillende IKEI-warenhuizen. Er wordt actief beleid gevoerd om meer vrouwen in dienst te nemen in plaats van mannen. Het blijkt dat vrouwen hun inkomen voor een belangrijk deel besteden aan de opleiding van hun kinderen.  
→ Leg in twee stappen uit dat het beleid van IKEI om meer vrouwen in dienst te nemen, de economie op langere termijn kan stimuleren.

**informatiebron 1** prijs van een Willy-boekenkast in:

Marokko



MAD 699,-

India



INR 4.990,-

Zuid-Korea



KRW 109.000,-

**informatiebron 2** koers van de Marokkaanse dirham (MAD), de Indiase roepie (INR) en de Zuid-Koreaanse won (KRW) ten opzichte van de euro (€)

1 MAD	€ 0,092
1 INR	€ 0,012
1 KRW	€ 0,00075

---

### Bronvermelding

Een opsomming van de in dit examen gebruikte bronnen, zoals teksten en afbeeldingen, is te vinden in het bij dit examen behorende correctievoorschrift.